

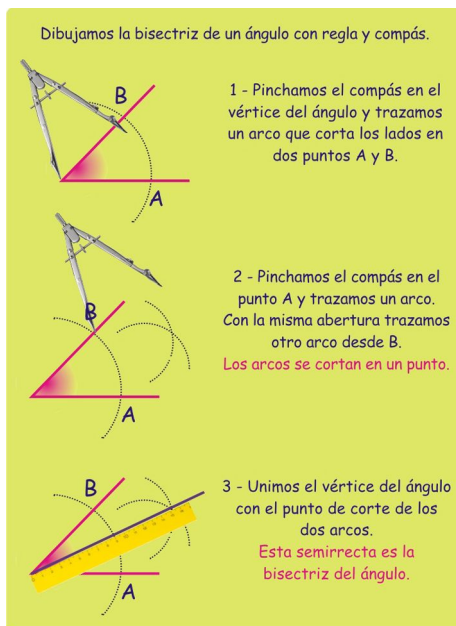
PLAN DE RECUPERACIÓN
ASIGNATURA: EDUCACIÓN PLÁSTICA Y VISUAL - EUP
ALUMNOS DE 1.ESO

IMPORTANTE: PARA EL EXAMEN DE SEPTIEMBRE, NECESITAS:

- **Escuadra y cartabón**
- **Rotrín 0.8**
- **Lápiz**
- **Lápices de colores o rotuladores**
- **3 Láminas tamaño DIN A4 (Tamaño folio)**

LOS EJERCICIOS SE ENTREGARÁN EL DÍA DEL EXAMEN.

EJERCICIO 1: REALIZACIÓN DE LA BISECTRIZ

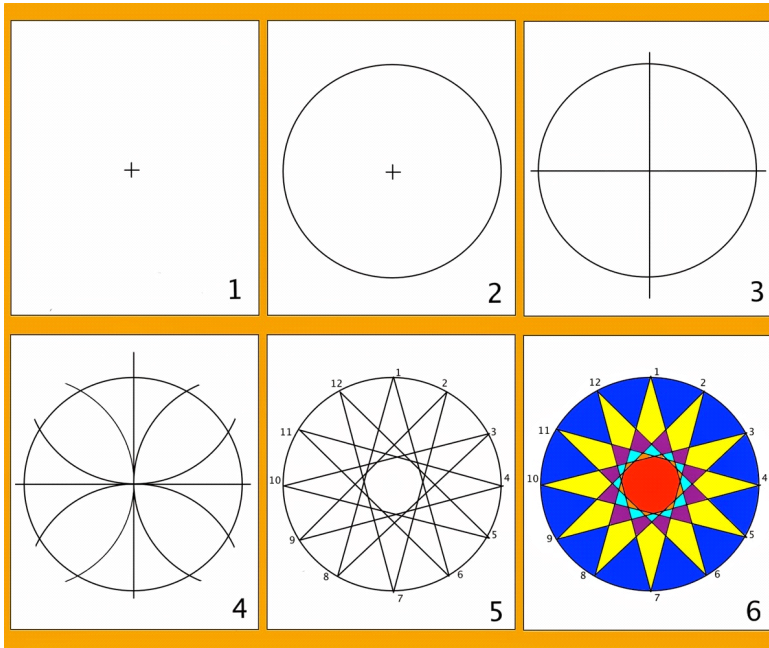


EJERCICIO 2: POLÍGONO ESTRELLADO DE 12 LADOS

La actividad consiste en dibujar un polígono estrellado de 12 lados, dibujando primero el polígono inscrito en una circunferencia de radio 6 cm., uniendo los vértices alternativamente y coloreando después.

- 1- En una hoja de bloc de dibujo marcar el centro.
- 2- Dibujar una circunferencia de radio 6cm. desde ese centro.
- 3- Dibujar el diámetro horizontal y el vertical de esa circunferencia.
- 4- Con la misma medida de 6cm. trazar cuatro arcos desde los extremos de esos diámetros, así obtenemos los 12 vértices del polígono.

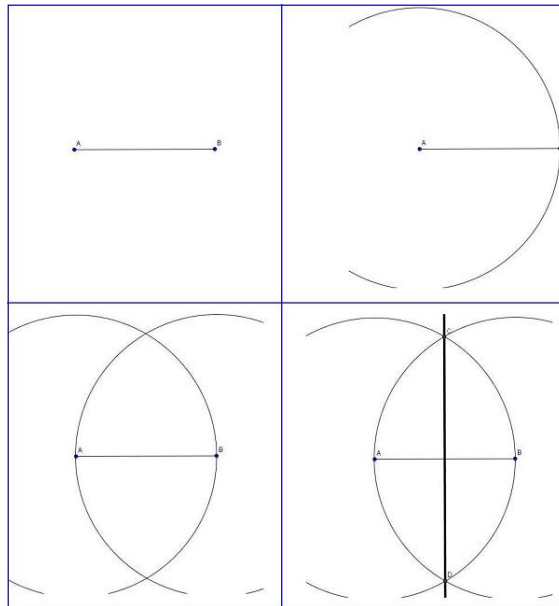
5- Numerar los vértices del 1 al 12 y unirlos alternativamente para dibujar la estrella. Se pueden añadir más estrellas dentro o fuera
6- Colorear el resultado



EJERCICIO 3

MEDIATRIZ DE UN SEGMENTO

La **mediatriz** de un segmento es la recta que divide dicho segmento en dos segmentos iguales.



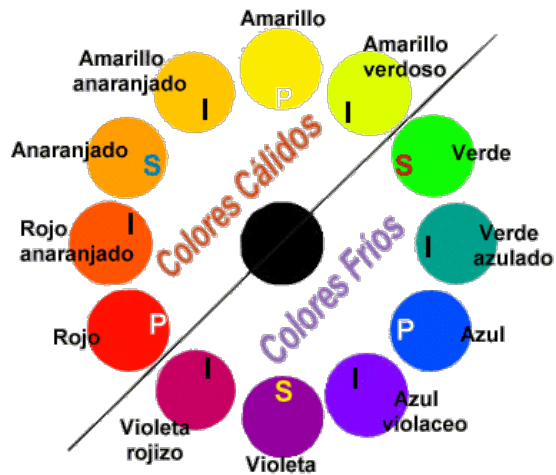
Dibujamos el segmento AB . Después construimos una circunferencia con centro A y radio AB , y otra con centro B y radio también AB . Esas dos circunferencias se cortan en dos puntos, C y D . La recta que pasa por esos dos puntos es la mediatriz del segmento AB .

EJERCICIO 4 : COLORES FRÍOS Y COLORES CÁLIDOS

Realiza una composición abstracta en una lámina dividida en 2 partes; en una de las partes representa los colores cálidos y en la otra los colores cálidos.

Ejemplo;





EJERCICIO 5 EL CÓMIC

Realiza un cómic, a través de la elaboración de una historia sencilla que cuente una anécdota divertida.

Visualiza las siguientes páginas como método de ayuda para la realización:

<http://crearteyformarte.blogspot.com/2012/03/el-comic.html>

<http://iesdaroca.catedu.es/2016/12/02/tipos-de-planos-en-el-comic/>

<http://gbplasticayvisual1.blogspot.com/2014/09/el-comic.html>

EJERCICIO 6 : LOS POLÍGONOS REGULARES

Realiza los siguientes polígonos regulares dado el lado:

LOS POLÍGONOS REGULARES

Construcción polígonos regulares dado el radio de la circunferencia circunscrita

